



وزارة التربية

التوجيه الفني العام للعلوم

اللجنة الفنية المشتركة للمرحلة الابتدائية

بنك أسئلة مادة العلوم
الصف الثاني الابتدائي
الفترة الثانية

2015-2014




الوحدة الثانية
جسم الإنسان
الفصل الأول (الحواس)

السؤال الأول: اختر الإجابة الصحيحة علمياً لكل من العبارات التالية بوضع علامة (✓) في المربع المقابل لها:


1- الإنسان لديه حواس :

3 4 5 6

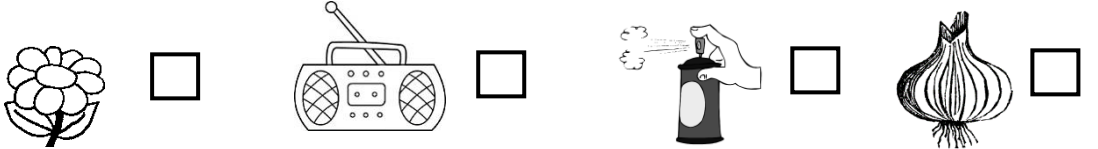
2- العضو الذي يساعدنا على تذوق الطعام هو :



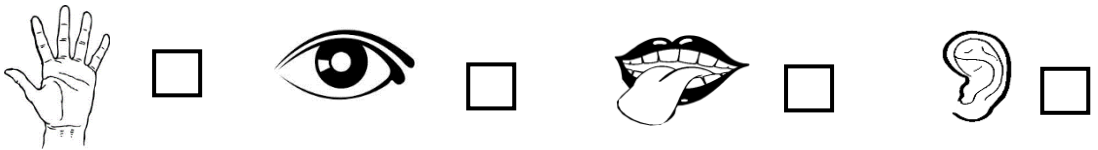
3- يفيدنا الأنف في تمييز رائحة :




4- يمكن التعرف على الأشياء التالية باستخدام الأنف ما عدا :



5- العضو الذي يساعدنا على التعرف على صوت الديك هو :





6- أتعرف على ألوان علم الكويت باستخدام :



7- نستخدم اللسان للتعرف على :

الرائحة الصوت الملمس المذاق


8- أميز الأشياء التالية باستخدام الأذن  ما عدا :



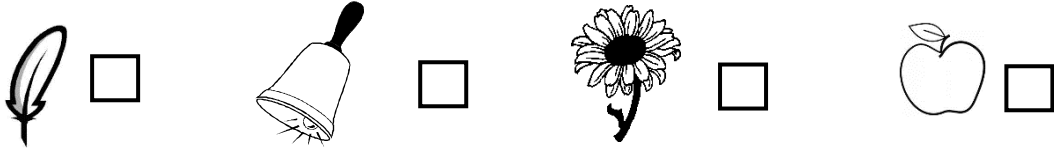
9- العضو الذي يساعدنا على رؤية الأشياء التي حولنا هو :



10- الوعاء الذي يصدر صوتاً منخفضاً عند هزه ، هو الوعاء الذي يوجد به :



11- تفيدنا الأذن  في تمييز :



12- أنت تلمس الأشياء باستخدام :






السؤال الثاني : أكتب بين القوسين كلمة (صحيحة) للعبارة الصحيحة وكلمة



(خطأ) للعبارة غير الصحيحة في كل مما يأتي:



1- الملاحظة تساعدنا على التعلم . ()


2- الإنسان لديه أربع حواس . ()







3- اللسان  يساعدنا على السمع . ()

4- الأذن  تساعدك على سماع صوت الجرس  . ()







5- العين  تساعدك على التمتع بجمال الطبيعة  . ()

6- الرؤية بعين واحدة  أوضح من الرؤية بعينين  . ()



7- تلمس الأشياء باستخدام اليد  . ()

- 8- التقاط الكرة  أسهل إذا غطيت عين واحدة  . ()
- 9- نميز رائحة الأزهار  بواسطة  الأذن . ()
- 10- ألاحظ فقاعات الصابون  بواسطة  العين . ()

السؤال الثالث : في الجدول التالي اختر العبارة أو الشكل من المجموعة (ب) وأكتب رقمها أمام ما يناسبها من عبارات المجموعة (أ) :

الرقم	مجموعة (أ)	الرقم	مجموعة (ب)
	أستخدم أنفي  في التعرف على	1	صوت الكلب 
	أستخدم لساني  في التعرف على	2	رائحة العطر 
	أستخدم أذني  في التعرف على	3	طعم الملح 
		4	قراءة الكتب 

الرقم	مجموعة (أ)	الرقم	مجموعة (ب)
	أميز الأصوات بـ	1	العين 
	أميز مذاقات الأطعمة بـ	2	الأنف 
	أميز روائح الأطعمة بـ	3	الأذن 
	أميز ألوان الأطعمة بـ	4	اللسان 
		5	اليدي 

الرقم	مجموعة (أ)	الرقم	مجموعة (ب)
	تلتقط منى عدد أكبر من الكرات في الصورة رقم	1	
	تلتقط منى عدد أقل من الكرات في الصورة رقم	2	

السؤال الرابع : أكمل كل من العبارات التالية بما يناسبها علمياً :


- 1- الإنسان لديه حواس . (4 - 5)
- 2- يساعدك اللسان  على (الشم - التذوق)
- 3- تساعدك على التمتع بالمناظر الطبيعية. (العين  - الأنف )
- 4- تساعدك الأذن  على (اللمس - السمع)
- 5- يساعدك الأنف  على (الشم - اللمس)
- 6- أرى بشكل أفضل (بعين واحدة  - بعينين )
- 7- ألمس  بـ (عيني - جلدي)
- 8- الوعاء الذي يصدر صوت منخفض عند هزه هو الذي يحتوي على (كرات زجاجية  - ممحاة )

السؤال الخامس: أكمل البيانات على الشكل الموضح أمامك :

- صل بين كل جزء من أجزاء الرأس بوظيفته .

الشم

الرؤية



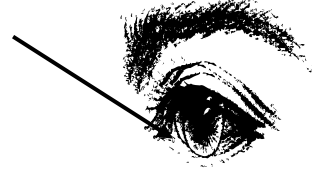
التذوق

السمع

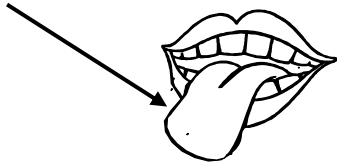
الشكل يوضح



الجزء المشار إليه يمثل



الجزء المشار إليه يمثل



الشكل يوضح

