



وزارة التربية

التوجيه الفني العام للعلوم

اللجنة الفنية المشتركة للمرحلة الابتدائية

بنك أسئلة مادة العلوم
الصف الثاني الابتدائي
الفترة الثانية

2015-2014



الوحدة الثانية

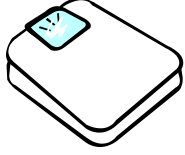
جسم الإنسان

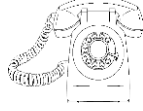
الفصل الثاني (النمو والتغير)

السؤال الأول: اختر الإجابة الصحيحة علمياً لكل من العبارات التالية بوضع علامة

(✓) في المربع المقابل لها:

1- الأداة التي نستخدمها للتعرف على أننا ننمو و نكبر هي :










2- الصورة التي تمثل الطفل الرضيع هي :



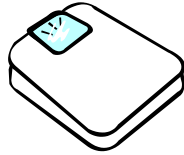







3- الأداة التي نستخدمها لقياس طول جسمك :










4- أدوات نستخدمها للعناية بالأسنان هي :









5- تجعل جسمك متماسكاً ومنتصباً :

اللسان


الأسنان

العظام

العضلات

6- الطعام الذي يساعد على المحافظة على صحة الأسنان :









7- تساعد الإنسان على الابتسام :

اللسان

الأسنان

العظام

العضلات

8- مرحلة من مراحل نمو الإنسان لا يكون فيها قادراً على المشي :


















9- يجب أن تنظف أسنانك بعد :






السؤال الثاني : أكتب بين القوسين كلمة (صحيحة) للعبارة الصحيحة وكلمة




(خطأ) للعبارة غير الصحيحة في كل مما يأتي:

- 1- تنمو الأسنان الأولى وتدفع الأسنان الدائمة . ()
- 2- الطفل الرضيع  يستطيع المشي والركض . ()
- 3- نحافظ على أسناننا بزيارة الطبيب دائماً . ()
- 4- الميزان  أداة تستخدم لقياس طول الإنسان . ()
- 5- العظام تجعل جسمك متماسكاً ومنتصباً .  ()
- 6- الأسنان الأولى  تدوم طوال الحياة . ()
- 7- التفاح  من الأطعمة التي تساعدنا على العناية بالأسنان . ()
- 8- العضلات  تساعد الجسم على الحركة . ()
- 9- تنظيف الأسنان بالفرشاة والمعجون  يساعدنا على العناية بالأسنان . ()
- 10- تعمل العضلات والعظام معاً لتساعدنا على الحركة . ()
- 11- الأسنان الدائمة  هي الأسنان التي تظهر أولاً ثم تسقط . ()
- 12- عندما تكبر تتغير و تصبح أطول . ()
- 13- الطفل دون السنة  الأولى يكون قادراً على الكلام . ()

السؤال الثالث : في الجدول التالي اختر العبارة أو الشكل من المجموعة (ب)
وأكتب رقمها أمام ما يناسبها من عبارات المجموعة (أ) :

مجموعة (ب)	الرقم	مجموعة (أ)	الرقم
	1	طفل يحبو من مكان لآخر	
	2	شخص قادر على المشي والركض والقفز	
	3		

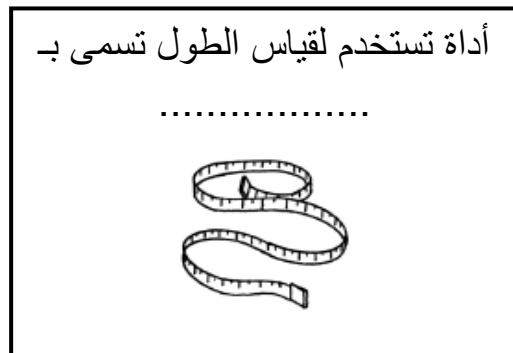
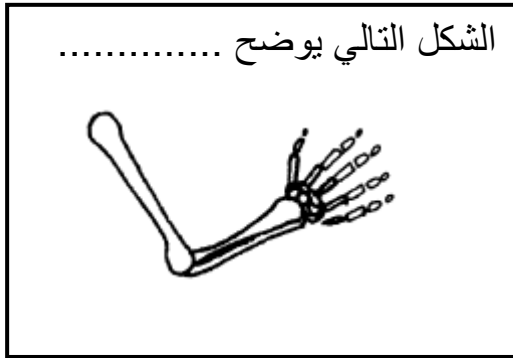
مجموعة (ب)	الرقم	مجموعة (أ)	الرقم
 العظام	1	تساعد الإنسان على الحركة والابتسام	
 الأسنان	2	تجعل جسم الإنسان منتصباً متماسكاً	
 العضلات	3		

مجموعة (ب)	الرقم	مجموعة (أ)	الرقم
 الذراع	1	توجد العظام الطويلة في	
 الساق	2	توجد العظام الصغيرة في	
 الأصابع	3		

السؤال الرابع : أكمل كل من العبارات التالية بما يناسبها علمياً :

- 1- الفرشاة والمعجون  تساعدنا على العناية بـ..... (الشعر- الأسنان)
- 2- تساعد..... الجسم على الحركة (العظام - العضلات)
- 3- يولد الأطفال  من غير..... (أسنان - لسان)
- 4- تجعل الجسم متماسكاً ومنتصباً..... (العظام - العضلات)
- 5- أسنان الطفل التي تسقط في المراحل الأولى هي الأسنان.....(الأولى-الدائمة)
- 6- من الأطعمة التي تساعد على العناية بالأسنان..... (حلى  - حليب )
- 7- تساعد الجسم على الحركة والابتسام ..... (العظام - العضلات)
- 8- نستخدم للمحافظة على الأسنان.....(الفرشاة والمعجون -الصابون )
- 9- نصح الدكتور أحمد بالابتعاد عن تناول الأطعمة الضارة بالأسنان مثل.....
(الحلى  - التفاح )

السؤال الخامس: أكمل البيانات على الشكل الموضح أمامك:



الشكل التالي يوضح



الشكل التالي يوضح

