



وزارة التربية

التوجيه الفني العام للعلوم

اللجنة الفنية المشتركة للمرحلة الابتدائية

بنك أسئلة مادة العلوم

الصف الأول الابتدائي

الفترة الثانية

2015-2014

الوحدة الثانية : جسم الإنسان

الفصل الأول : الحواس

السؤال الأول: اختر الإجابة الصحيحة علمياً لكل من العبارات التالية بوضع علامة (√) في المربع المقابل لها:

1- نرى الألوان باستخدام

العين الأذن الجلد الأنف

2- نسمع الأصوات باستخدام

الجلد العين الأذن اللسان

3- أنت تميز المذاقات بـ

الأنف اللسان العين الجلد

4- أنت تشم الروائح بـ

الأنف الأذن الجلد اللسان

5- عندما تلاحظ الروائح فإنك تستخدم حاسة

النظر السمع التذوق الشم

6- عندما تتذوق التفاحة تشعر بـ

الطعم الملمس الرائحة اللون

7- يساعدك الجلد في التعرف على

اللون الملمس الأصوات الروائح

8- للتعرف على ملمس الأشياء تستخدم

العين الأذن الأنف الجلد





السؤال الثاني : أكتب بين القوسين كلمة (صحيحة) للعبارة الصحيحة وكلمة (خطأ) للعبارة غير الصحيحة في كل مما يأتي :-




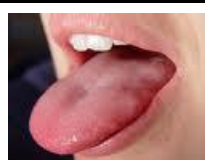
- 1- تستخدم العين لترى ألوان الأشياء (.....)
- 2- بإمكانك أن تسمع الأصوات بأذنيك (.....)
- 3- أنت تميز بأنفك الأصوات (.....)
- 4- أنت تشم بلسانك الروائح (.....)
- 5- من المذاقات الحلو والمالح (.....)
- 6- يساعدك الجلد في التعرف على الملمس (.....)
- 7- قد يكون للشيء طعم صلب أو طري (.....)
- 8- قد يكون للشيء ملمس خشن أو أملس (.....)

السؤال الثالث : أكمل كل من العبارات التالية بما يناسبها علمياً :

- 1-تستخدم عينيك لترى
- 2- بإمكانك أن تسمع الأصوات بـ.....
- 3- من السهل أن ترمي الكرة وعيناك
- 4- من الصعب أن ترمي الكرة وعيناك
- 5- من المذاقات الحلو و.....
- 6- أنت تميز المذاقات بـ.....
- 7- أنت تشم الروائح بـ.....
- 8- أنت تتعرف على الملمس بـ.....

السؤال الرابع : فى الجدول التالى اختر العبارة أو الشكل من المجموعة (ب) وأكتب رقمها أمام ما يناسبها من عبارات المجموعة (أ) :

(ب)		(أ)	
	1	من الروائح	
	2	من الأصوات	
	3	لمسه أملس	
	4	من الأصواء	

(ب)		(أ)	
	1	الأذن	
	2	الجلد	
	3	اللسان	
	4	العين	

الوحدة الثانية : جسم الإنسان

الفصل الثانى : النمو والتغير

السؤال الأول: اختر الإجابة الصحيحة علمياً لكل من العبارات التالية بوضع علامة (√) فى المربع المقابل لها:

1- أنت تصفق بـ

يديك عينيك قدميك أنفك

2- عندما ولدت كنت

ولد راشداً رجلاً طفلاً رضيعاً

3- أنت الآن

ولد رضيع راشد رجلاً مسناً

4- عندما تنمو ستصبح يوماً

طفلاً رضيعاً راشداً ولد

5- للناس مظهر

واحد مختلف متشابه متطابق

6- بصمات الناس

متشابهة مختلفة واحدة متطابقة

7- الولد أكبر سناً من

الرجل الراشد العجوز الطفل

8- الولد أصغر سناً من

الرضيع الطفل الراشد الوليد





السؤال الثاني : أكتب بين القوسين كلمة (صحيحة) للعبارة الصحيحة وكلمة (خطأ) للعبارة غير الصحيحة في كل مما يأتي :-





- 1- بإمكانك أن تستخدم أجزاء جسمك كلها (.....)
- 2- عندما تضرب الكرة فأنت تستخدم قدمك (.....)
- 3- عندما ولدت كنت راشداً (.....)
- 4- أنت الآن ولد (.....)
- 5- عندما تنمو تتغير ويصبح شكلك مختلف (.....)
- 6- للناس مظهر متشابه (.....)
- 7- تتشابه بصمات الأصابع بينك وبين زملائك (.....)
- 8- الناس يختلفون في لون البشرة ولون الشعر وقد يتشابهون (.....)

السؤال الثالث : أكمل كل من العبارات التالية بما يناسبها علمياً :

- 1- أنت تستخدم أجزاء جسمك
- 2- أنت تضرب الكرة بـ.....
- 3- عندما ولدت كنت طفلاً.....
- 4- عندما ستتمو ستصبح يوماً
- 5- للناس مظهر
- 6- يختلف الناس في لون
- 7- يختلف الناس في لون الشعر وقد
- 8- بصمات الناس

السؤال الرابع : في الجدول التالي اختر العبارة أو الشكل من المجموعة (ب) وأكتب رقمها أمام ما يناسبها من عبارات المجموعة (أ) :

(ب)		(أ)	
	1	ولد	
	2	رضيع	
	3	عجوز	
	4	راشد	

(ب)		(أ)	
	1	متشابهون	
	2	مختلفون	
	3	ولد	
	4	بنت	

الوحدة الثانية : جسم الإنسان

الفصل الثالث : المحافظة على الصحة

السؤال الأول: اختر الإجابة الصحيحة علمياً لكل من العبارات التالية بوضع علامة (√) في المربع المقابل لها:

1- يمكنك المحافظة على لياقتك البدنية بممارسة

الألعاب الإلكترونية أكل الدهون التمارين الرياضية حرق القمامة

2- بعد ممارسة التمارين الرياضية يكون النوم أفضل للـ

للتعب للأكل للكسل للراحة

3- مجموعات الغذاء عددها

7 6 5 8

4- نستخدم القليل من

الدهون والزيوت الخبز والحبوب اللحوم والفواكه الحليب

5- نأكل أكثر من مجموعة

اللحم الخضار الخبز والحبوب الدهون والزيوت

6- مجموعة الخبز والحبوب تزودنا بـ

الراحة الهواء الماء الطاقة

7- الأغذية التي تترك بقعة هي الأغذية الغنية بـ

اللحم الدهون الحبوب الفواكه

8- بإمكانك المحافظة على نظافتك بـ

الاغتسال اللعب النوم أكل الدهون



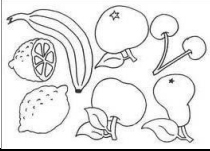

السؤال الثاني : أكتب بين القوسين كلمة (صحيحة) للعبارة الصحيحة وكلمة (خطأ) للعبارة غير الصحيحة في كل مما يأتي :-





- 1-يمكنك المحافظة على لياقتك بممارسة التمارين الرياضية (.....)
- 2- السهر أفضل وسيلة للراحة بعد ممارسة التمارين الرياضية(.....)
- 3- ممارسة التمارين الرياضية غير مفيدة لقلبك (.....)
- 4- مجموعة الخبز والحبوب تزودنا بالطاقة (.....)
- 5-مجموعات الغذاء عددها سبعة (.....)
- 6-الأرز من مجموعة الخبز والحبوب (.....)
- 7-الإغتسال بالماء والصابون يزيل الجراثيم (.....)
- 8-عدم المحافظة على النظافة تحافظ على الصحة (.....)

السؤال الثالث : أكمل كل من العبارات التالية بما يناسبها علمياً :

- 1-يمكنك المحافظة على صحتك بممارسة
- 2- بعد التمارين الرياضية يكونأفضل وسيلة للراحة
- 3-عند ممارسة التمارين الرياضية يزداد نبض
- 4- عليك أن تأكل أكثر من مجموعة
- 5-عليك أن تأكل اقل من مجموعة
- 6- عدد مجموعات الغذاء
- 7- الأغذية التي تحتوي على الدهون تترك
- 8- الاغتسال بالماء والصابون يزيل

السؤال الرابع : فى الجدول التالى اختر العبارة أو الشكل من المجموعة (ب) وأكتب رقمها أمام ما يناسبها من عبارات المجموعة (أ) :

(ب)		(أ)	
	1	الفواكه	
	2	اللحوم	
	3	الخبز	
	4	الخضراوات	

(ب)		(أ)	
	1	الفرشاة والمعجون	
	2	الحليب	
	3	نظافة الشعر	
	4	الصابون	